

# MoKoTa

**2019**



---

**NÁZEV TÝMU**

## MoKoTa 2019 – kolistická disciplína

Cyklistická etapa je časově ohraničený cyklozávod pro smíšené dvojice muž-žena (+ dítě/děti). Herní mechanika je založená na průzkumu oblasti dle mapy přiložené v této brožuře a dohledávání **kontrol** v 7 základních a 1 doplňkové kategorii podle zvolené strategie v ohraničeném časovém intervalu mezi 9.00 (start závodníků) a 15.00 (konec závodu). Další možností, jak získat body, je **Náručová výzva**. Výsledné pořadí týmů v této disciplíně je určeno součtem bodů, které tým získá **sběrem kontrol** a v **Náručové výzvě**.

### Co je kontrola?

Kontrola je místo na mapě, jehož navštívení umožní odpovědět na otázku při dohledávce a tím získat body za nalezení. Celkem je ve hře 49 základních kontrol v 7 kategoriích + 518 žolíkových kontrol.

Kombinace písmena a čísla určuje místo v odpovědní matici, kam vepíšete správnou odpověď. Pro snazší dohledání kontroly v místě, kde se má nacházet, obsahuje brožura také fotoseznam, který vám pomůže s dohledáním.

Odpověď na otázku z dohledávky zaznamenávejte stručně přímo do odpovědní matice.

### Umístění odpovědí v matici

Každá navštívená kontrola se správnou odpovědí v aplikaci a v brožuře má svoje přesné místo v odpovědní matici. Např. kontrola A1 je umístěna v prvním řádku v prvním sloupci. Body za kontrolu jsou započítány za sloupec i řádek.

Výjimku tvoří **žolíková kontrola**. Takovou kontrolu můžete umístit na libovolné místo v matici a tím maximálně optimalizovat celkový zisk bodů. Do odpovědní matice se označuje označením Ž1...Ž18 a odpovědi se zapisují do tabulky pod odpovědní matici.

### Příklad

	A	B	C	D	E	F	G
1	Správná odpověď		Správná odpověď				
2	Ž5	Správná odpověď	Správná odpověď	Ž13	Ž1	Ž2	
3			Správná odpověď				
4			Správná odpověď				
5			Správná odpověď				
6			Špatná odpověď				
7			Správná odpověď				
Ž1	Správná odpověď			Ž10			
Ž2	Správná odpověď			Ž11			
Ž3				Ž12			
Ž4				Ž13	Správná odpověď		
Ž5	Špatná odpověď			Ž14			
Ž6				Ž15			
Ž7				Ž16			
Ž8				Ž17			
Ž9				Ž18			

Počet kontrol ve sloupci/řádku	Body
0	0
1	11
2	22
3	44
4	55
5	77
6	88
7	111

Součet řádků:

$$22 + 77 + 11 + 11 + 11 + 0 + 11 = 143$$

Součet sloupců

$$22 + 11 + 88 + 11 + 11 + 11 + 0 = 154$$

Celkem  $143 + 154 = 297$  b.

## Náručová výzva



Tým získá **10 bodů** za předloženou fotografii, na které je vidět, jak dospělá osoba, která se neúčastní závodu, drží v náručí závodnici – ženu, resp. **20 bodů** drží-li muže. Je možné získat také **30 bodů**, drží-li osoba v náručí oba závodníky najednou. Stejná cizí osoba smí být využita pouze jednou.

Maximální celkový počet bodů v Náručové výzvě je omezen na 150 bodů na tým.

## Pravidla

- Kolistická disciplína začíná hromadným startem z autokempu v sobotu v **9.00**. Disciplína Trvá 6 hodin a návrat dvojice je nutný do **15.00** na start závodu včetně odevzdání odpovědní matice pro vyhodnocení. **Pozdní návrat je penalizován 10 body za každou započatou minutu zpoždění.**
- Dvojice je nedělitelná, každou kontrolu musíte navštívit společně.
- Není dovoleno používání mobilních telefonů, navigací a jiných digitálních přístrojů, které umí určit polohu nebo orientaci, zobrazit mapové podklady apod. Výjimka: je povoleno použít digitální kompas a fotoaparát v mobilu pro Náručovou výzvu.
- Povoleny jsou jednoduché přístroje, jako např. magnetický kompas, buzola nebo dalekohled.
- Není dovoleno používat vlaky, autobusy, auta, lodě ani další jiné dopravní prostředky s motorem (ani větroně ☺), není povoleno stopovat ani se nechat vléci.
- V případě nouze (úraz, technický problém, nedostatek sil apod.) zavolejte organizátorům, pomůžeme – ošetříme, opravíme, odvezeme apod.
- Účast v etapě je dobrovolná a účastníte se na vlastní nebezpečí. Buďte na sebe na silnicích i mimo ně opatrní! Jeďte tak nejlépe, jak dovedete, ale ne lépe. Je to hra a cíl je si to užít!
- Respektujte Ferdu Playera, rozuměj hrajte fěr.

## Servis v průběhu závodu

Budete-li mít potíže s kolem, nebudete-li moci najít dohledávku, ačkoliv budete přesvědčeni, že jste určitě na správném místě, budete-li chtít odstoupit ze závodu a zajistit odvoz a v dalších nevyjmenovaných případech, kdy to bude dávat smysl, volejte:

**724 826 951**

Šmoulla

**733 724 010**

Veve

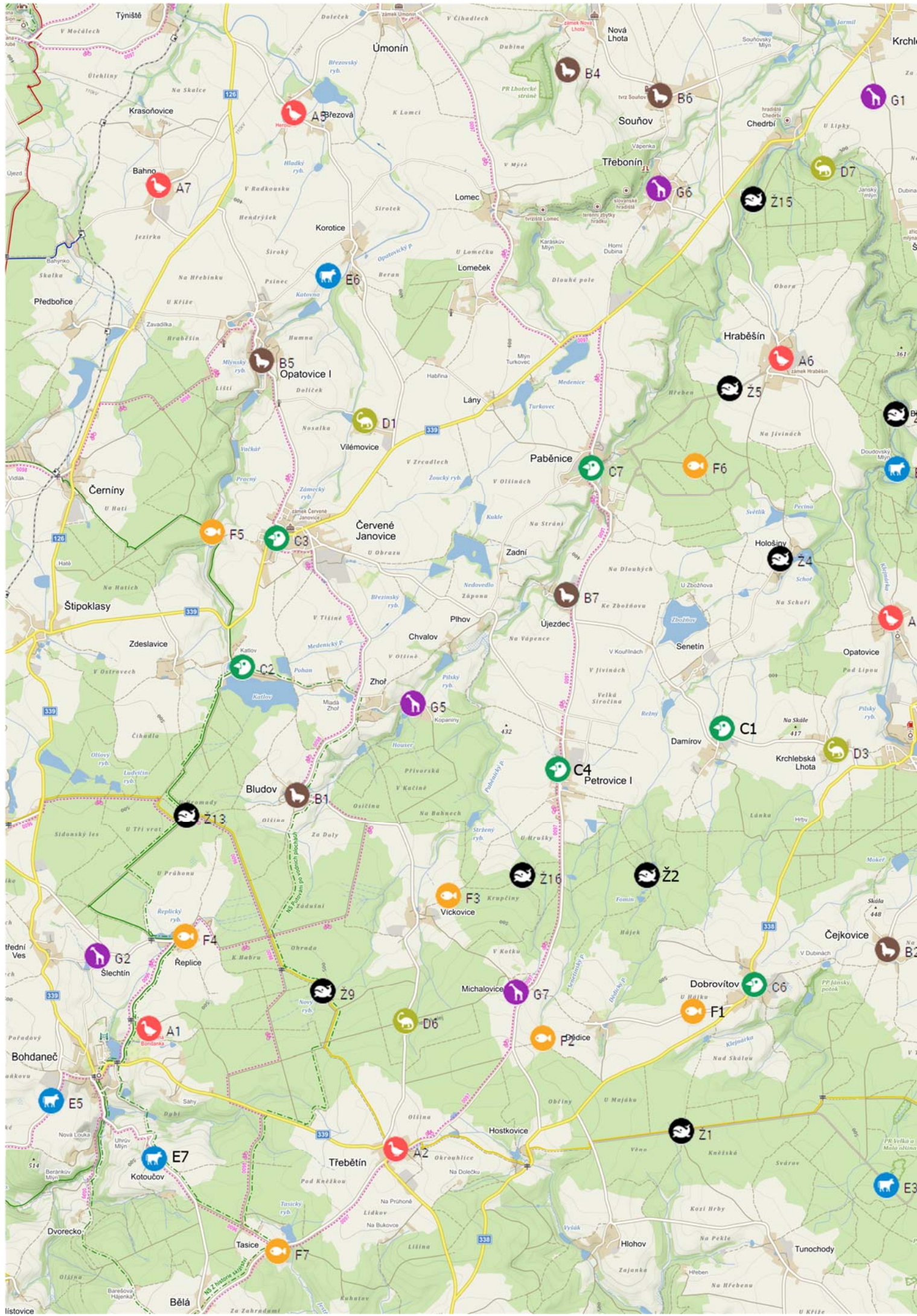
## První pomoc

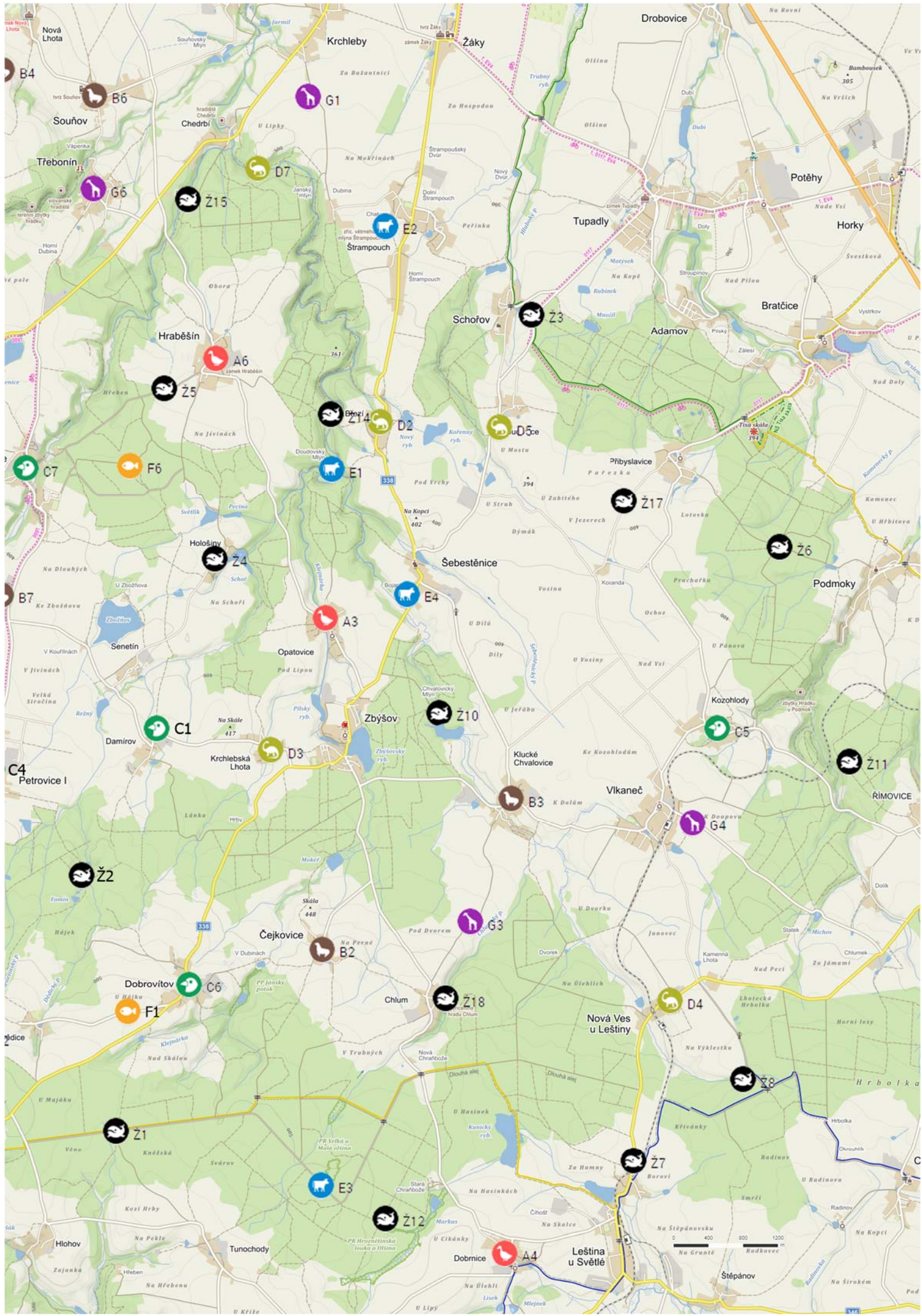
V případě krajní nouze a nutnosti rychlého zásahu zdravotníků volejte nejprve linku záchranné služby **155**, poté informujte Šmoullu nebo Veho.

Hodně štěstí

	A	B	C	D	E	F	G
1							
2							
3							
4							
5							
6							
7							
Ž1				Ž10			
Ž2				Ž11			
Ž3				Ž12			
Ž4				Ž13			
Ž5				Ž14			
Ž6				Ž15			
Ž7				Ž16			
Ž8				Ž17			
Ž9				Ž18			













Název **Bohdaneč rozhledna** A1  
GPS 49.7832597N, 15.2316722E

*Jaké zvíře sedí na rozhledně směrem k příjezdové cestě? Nahoru nemusíte.*



Název **Budka Třebětín** A2  
GPS 49.7708008N, 15.2710953E

*Jaké je telefonní číslo do budky?*



Název **Dětské hřiště Opatovice** A3  
GPS 49.8256897N, 15.3502244E

*Jaké zvíře je vyobrazeno na malém domečku u rybníka?*



Název **Dobrnický dub** A4  
GPS 49.7601117N, 15.3789453E

*Jaká je výška koruny stromu?*



Název **Heroland** A5  
GPS 49.8777842N, 15.2549189E

*Jaká SPZ může parkovat vedle vstupní brány?*



Název **Hraběšín zámek** A6  
GPS 49.8525292N, 15.3327364E

*Jaký tvar má klíč a kování zámku na bráně k zámku?*



Název **Kaplička Bahno** A7  
GPS 49.8703242N, 15.2331903E

*Kolik kilogramů vážil zvon zakoupený v roce 1888?*



Název **Kaplička Bludov** B1  
GPS 49.8073667N, 15.2553750E

*Kolik houpaček lodiček je za kapličkou?*



Název **Kaplička Čejkovice** B2  
GPS 49.7914900N, 15.3498625E

*Kolik je poplatek za druhého psa?*



Název **Kaplička Klucké Chvalovice** B3

GPS 49.8070675N, 15.3800017E

*Jakou barvu má obecní pumpa po pravé straně silnice kousek pod kapličkou?*



Název **Kaplička Nová Lhota** B4

GPS 49.8822394N, 15.2985719E

*Komu musíme zavolat abychom mohli jít na prohlídku kostelíka?*



Název **Kaplička Opatovice I.** B5

GPS 49.8522997N, 15.2497692E

*Pod cedulí sádky Opatovice se nachází nástěnka. Jaký nápis se nachází uprostřed?*



Název **Kaplička Souňov** B6

GPS 49.8796403N, 15.3134219E

*Kolik srdíček je v brance?*



Název **Kaplička Újezdec** B7

GPS 49.8280681N, 15.2984178E

*Kdy dotrpěl Jan Procházka v Nacistickém vězení?*



Název **Socha Damírov** C1

GPS 49.8138778N, 15.3230694E

*Jaký letopočet je vyrytý na soklu sochy?*



Název **Katlov hráz** C2

GPS 49.8206142N, 15.2466469E

*Jakou značku hodinek má vodník na ruce?*



Název **Kostel Červené Janovice** C3

GPS 49.8338919N, 15.2521564E

*Jaké zvíře je vyobrazeno na malém okně vlevo vstupu do kostela?*



Název **Kostel Petrovice I.** C4

GPS 49.8100525N, 15.2971731E

*Kolik ozdobných lístečků je na hlavním vstupu do kostela?*



Název **Kostel všech svatých** C5

GPS 49.8142708N, 15.4129647E

*Jaké je telefonní číslo do Kamenictví Kratochvíl?*



Název **Kostelík Dobrovítov** C6

GPS 49.7878061N, 15.3285053E

*Kolik malých tyček je na brance ke kostelu?*



Název **Kostelík Paběnice** C7

GPS 49.8411661N, 15.3024678E

*Kde byli věznění představitelé církve?*



Název **Kostelík Vilémovice** D1

GPS 49.8461047N, 15.2662056E

*Kdy byla kaplička obnovena?*



Název **Křížek Březí** D2

GPS 49.8459500N, 15.3590750E

*Jaká zákazová značka je hned u křížku?*



Název **Křížek Krchlebská Ihota** D3

GPS 49.8120467N, 15.3415906E

*Jaké je první příjmení na památníku?*



Název **Křížek Nová Ves u Leštiny** D4

GPS 49.7861056N, 15.4054611E


*Jaký letopočet je vyrytý na soklu křížku?*



Název **Křížek Zbudovice jih** D5

GPS 49.8453861N, 15.3780778E

*Na kolika šroubech je křížek ukotven o vzperu?*



Název **Lesní cesta - kamenná alej** D6

GPS 49.7840825N, 15.2726456E

*Jakou zkratku uvádí nápis na bílém patníku?*



Název **Lom Chedrbí** D7  
GPS 49.8720328N, 15.3394581E

*Jaké pobočce patří budka u lomu na potoce?*



Název **Lví skála** E1  
GPS 49.8410333N, 15.3512528E

*Jaký strom leží přes cestu pod skálou na severní straně?*



Název **Mlýn Štrampouch** E2  
GPS 49.8661453N, 15.3598403E

*Z kolika prken je okno ve mlýně?*



Název **Mostek k Olšinám** E3  
GPS 49.7671139N, 15.3496250E

*Kolik příček z kulatiny je na mostku?*



Název **Památník Šebestěnice** E4  
GPS 49.8281572N, 15.3634075E

*Jakou barvu má hydrant hned vedle památníku?*



Název **Památný strom Bohdaneč** E5  
GPS 49.7758367N, 15.2160228E

*Co je za obrázek na křížku u pamětního stromu?*



Název **Památný strom Korotice** E6  
GPS 49.8609514N, 15.2603881E

*Jaký strom stojí vedle pamětního Sovova dubu? Stačí tvar listu.*



Název **Památný strom Kotoučov** E7  
GPS 49.7698433N, 15.2325306E

*Kolik okének má okno blíže k silnici?*



Název **Plyn Dobrovítov** F1  
GPS 49.7850039N, 15.3186322E

*Jaké číslo má rozvodna elektrické energie?*



Název **Posed Dědice** F2  
GPS 49.7823000N, 15.2946056E

*Kolik příček je na žebříku u posedu?*



Název **Posed u Vickovic** F3  
GPS 49.7970194N, 15.2795833E

*Kolik kovových schodů vede do posedu?*



Název **Rybník Řeplice** F4  
GPS 49.7927897N, 15.2375597E

*Kolik hrníčků má paní na plotě? Spočítejte jen hrníčky u vjezdové brány. Za roh nekoukejte.*



Název **Rybník v lese** F5  
GPS 49.8345981N, 15.2417761E

*Na koho vzpomíná cedule na kříži?*



Název **Rybník v lese** F6  
GPS 49.8414322N, 15.3190464E

*Z kolika latí je vyrobeno opěrátko lavičky?*



Název **Sklářská huť Jakub Tasice** F7  
GPS 49.7602919N, 15.2523064E

*Jak se jmenuje průvodkyně?*



Název **Socha svátého** G1  
GPS 49.8794719N, 15.3475261E

*K jakému výročí tu byl zasazen strom?*



Název **Šlechtín kaplička** G2  
GPS 49.7908264N, 15.2234994E

*Jaké dvě F linky autobusu zde jezdí?*



Název **Ufonský posed** G3  
GPS 49.7943000N, 15.3735361E

*Kolik schůdků má kovový žebřík vedoucí na posed?*



Název **Věžový vodojem** G4  
GPS 49.8045794N, 15.4090206E

*Jaká dopravní značka je hned přes silnici?*



Název **Zhoř soukromý Rybník** G5  
GPS 49.8167894N, 15.2739358E

*Co je napsáno na zelené chatičce hned vedle rybníka?*



Název **Zvonička Třebonín** G6  
GPS 49.8699514N, 15.3132744E

*Jakou barvu má stůl vedle vchodu do dřevěné zvonice?*



Název **Zvonička Michalovice** G7  
GPS 49.7870631N, 15.2904342E

*Z kolika prken jsou dveře do zvoničky?*



Název **Bod záchrany** Ž1  
GPS 49.7726778N, 15.3168194E

*Jaké je číslo bodu záchrany?*



Název **Buk U Hradu** Ž2  
GPS 49.7990711N, 15.3114133E

*Nakreslete bokorys vztyčeného kamene u paty stromu ze širokého boku.*



Název **Kaple Panny Marie** Ž3  
GPS 49.8570453N, 15.3832983E

*Kolikastěn je půdorys kaple?*



Název **Kaplička Hološiny** Ž4  
GPS 49.8318278N, 15.3326050E

*Kolik malých sošek se nachází uvnitř kapličky na stole pod křížem?*



Název **Kaplička Hraběšín (les)** Ž5  
GPS 49.8493622N, 15.3245947E

*Kolik svítilen na solární energii je okolo kapličky?*



Název **Křížek Podmocký les** **Ž6**  
GPS 49.8329917N, 15.4228333E

*Jaká je číslo bodu záchrany u křížku?*



Název **Lípa u Leštiny** **Ž7**  
GPS 49.7696597N, 15.3995050E

*Jaký je obvod kmene ve výšce 1,3m nad zemí?*



Název **Mariánská studánka** **Ž8**  
GPS 49.7780086N, 15.4170736E

*Jaká je nadmořská výška studánky?*



Název **Nový rybník v lese** **Ž9**  
GPS 49.7870961N, 15.2595672E

*Kolik km je to do Radvaňčic dle turistického rozcestníku po žluté?*



Název **Pamětní strom u mlýna** **Ž10**  
GPS 49.8158822N, 15.3684475E

*Jaký nápis je na spodní části pouliční lampy?*



Název **Posed u Mastné báby** **Ž11**  
GPS 49.8108889N, 15.4341472E

*Kolik příček má žebřík vedoucí na posed?*



Název **Posed v Suchých loukách** **Ž12**  
GPS 49.7636417N, 15.3599583E

*Jaká je značka střešní krytiny tohoto posedu?*



Název **Rozcestník v lese (MOHYLA)** **Ž13**  
GPS 49.8053103N, 15.2376294E

*Kolikáté je toto zastavení na naučné stezce?*



Název **Tábor v lese (Monkáda)** **Ž14**  
GPS 49.8466833N, 15.3510883E

*Jaký nápis se nachází v jídelně nad háčky?*



Název **Tábořiště u Chedrbí (most Hraběšín)** Ž15  
GPS 49.8688658N, 15.3282572E

*Co musíte udělat než vstoupíte do  
místnosti OFFICE?*



Název **Zapomenutý lesní domek** Ž16  
GPS 49.7991028N, 15.2913472E

*Kolik šroubů s hranatou hlavou drží  
dveřní kování?*



Název **Zelený kříž** Ž17  
GPS 49.8377694N, 15.3980278E

*Kolik betonových laviček je u křížku?*



Název **Zřícenina hradu Chlum** Ž18  
GPS 49.7863314N, 15.3695539E

*Kolik průduchů/otvorů vede do  
sklepení? (doporučuji prozkoumat  
zevnitř)*